

Место проведения: \_\_\_\_\_ Номер работы: \_\_\_\_\_

Фамилия участника: \_\_\_\_\_ Имя: \_\_\_\_\_

Отчество: \_\_\_\_\_ Дата рождения: \_\_\_\_\_

Телефон: \_\_\_\_\_ E-mail: \_\_\_\_\_

Город: \_\_\_\_\_ Школа: \_\_\_\_\_

Класс, в котором учится участник: \_\_\_\_\_

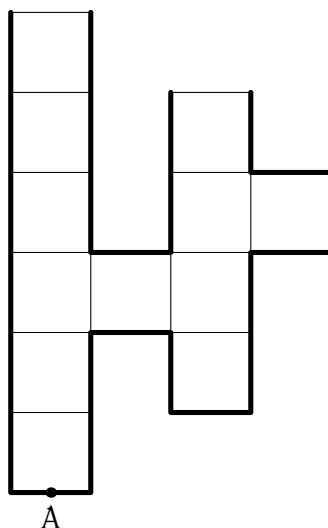
Класс, за который выступает участник: **8**

Вариант: **1**

**Задача 1.** На школьных соревнованиях по бегу главными претендентками на победу были Алиса и Василиса. На протяжении всей дистанции Алиса удерживала скорость 12 км/ч. Василиса же в течение одной минуты двигалась со скоростью 10 км/ч, а все остальное время — со скоростью 12 км/ч, как и Алиса. На сколько секунд Алиса обогнала Василису?

Ответ: Алиса обогнала Василису на  с.

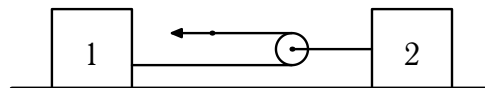
**Задача 2.** На рисунке изображен сосуд сложной формы (одна клетка соответствует кубику с длиной ребра 1 дм). В левое колено сосуда начинают заливать воду со скоростью 1 литр в минуту. Определите, какой будет высота столба воды над точкой А через 2 минуты, через 3 минуты, через 6 минут, через 9 минут, через 11 минут и через 12 минут.



Ответ: Высота столба воды над точкой А составит через 2 минуты  дм, через 3 минуты —  дм, через 6 минут —  дм, через

9 минут —  дм, через 11 минут —  дм и через 12 минут —  дм.

**Задача 3.** Петя и Вася проводили опыты с ящиками и веревками. Оказалось, что первый ящик начинает двигаться по горизонтальному столу при приложении к нему горизонтальной силы 7 Н, второй — при приложении горизонтальной силы 16 Н, третий — при приложении горизонтальной силы 9 Н. Из ящиков 1 и 2 и веревок Петя собрал изображенную на рисунке экспериментальную установку и измерил минимальную силу, которую надо приложить к концу веревки, чтобы расстояние между ящиками начало уменьшаться.



Вася провел аналогичные измерения, заменив в установке Пети ящик 1 на ящик 3. Какие результаты получили Петя и Вася?

*Ответ:* Минимальная сила в опыте Пети составляет  Н, в опыте Васи —  Н.

**Задача 4.** К концам легкого стержня длиной 30 см прикреплены два шарика одинакового объема. Плотность первого шарика составляет  $3 \text{ г/см}^3$ . Чтобы стержень находился в равновесии в воздухе, его надо подвесить на нити на расстоянии 12 см от первого шарика. Чтобы этот же стержень находился в равновесии в жидкости, его надо подвесить на нити на расстоянии 10 см от первого шарика. Определите плотность второго шарика и плотность жидкости.

*Ответ:* Плотность второго шарика составляет   $\text{г/см}^3$ . Плотность жидкости равна   $\text{г/см}^3$ .

Фамилия, имя, отчество участника: \_\_\_\_\_

Вариант 1 за 8-й класс Номер работы: \_\_\_\_\_

Место проведения: \_\_\_\_\_ Номер работы: \_\_\_\_\_

Фамилия участника: \_\_\_\_\_ Имя: \_\_\_\_\_

Отчество: \_\_\_\_\_ Дата рождения: \_\_\_\_\_

Телефон: \_\_\_\_\_ E-mail: \_\_\_\_\_

Город: \_\_\_\_\_ Школа: \_\_\_\_\_

Класс, в котором учится участник: \_\_\_\_\_


Класс, за который выступает участник: **8**

Вариант: **2**

**Задача 1.** На школьных соревнованиях по лыжным гонкам главными претендентками на победу были Ирина и Карина. На протяжении всей дистанции Ирина удерживала скорость 12 км/ч. Карина же в течение двух минут двигалась со скоростью 10 км/ч, а все остальное время — со скоростью 12 км/ч, как и Ирина. На сколько секунд Ирина обогнала Карину?

Ответ: Ирина обогнала Карину на  с.

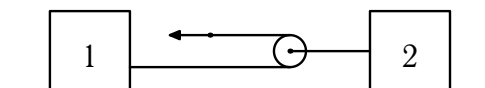
**Задача 2.** На рисунке изображен сосуд сложной формы (одна клетка соответствует кубику с длиной ребра 1 дм). В левое колено сосуда начинают заливать воду со скоростью 1 литр в минуту. Определите, какой будет высота столба воды над точкой А через 2 минуты, через 4 минуты, через 7 минут, через 9 минут, через 11 минут и через 12 минут.



Ответ: Высота столба воды над точкой А составит через 2 минуты  дм, через 4 минуты —  дм, через 7 минут —  дм, через

9 минут —  дм, через 11 минут —  дм и через 12 минут —  дм.

**Задача 3.** Владислав и Станислав проводили опыты с ящиками и веревками. Оказалось, что первый ящик начинает двигаться по горизонтальному столу при приложении к нему горизонтальной силы 3 Н, второй — при приложении горизонтальной силы 8 Н, третий — при приложении горизонтальной силы 5 Н. Из ящиков 1 и 2 и веревок Владислав собрал изображенную на рисунке экспериментальную установку и измерил минимальную силу, которую надо приложить к концу веревки, чтобы расстояние между ящиками начало уменьшаться.



Станислав провел аналогичные измерения, заменив в установке Владислава ящик 1 на ящик 3. Какие результаты получили Владислав и Станислав?

*Ответ:* Минимальная сила в опыте Владислава составляет  Н, в опыте Станислава —  Н.

**Задача 4.** К концам легкого стержня длиной 30 см прикреплены два шарика одинакового объема. Плотность первого шарика составляет  $3,3 \text{ г/см}^3$ . Чтобы стержень находился в равновесии в воздухе, его надо повесить на нити на расстоянии 12 см от первого шарика. Чтобы этот же стержень находился в равновесии в жидкости, его надо повесить на нити на расстоянии 10 см от первого шарика. Определите плотность второго шарика и плотность жидкости.

*Ответ:* Плотность второго шарика составляет   $\text{г/см}^3$ . Плотность жидкости равна   $\text{г/см}^3$ .

Фамилия, имя, отчество участника: \_\_\_\_\_

Вариант 2 за 8-й класс Номер работы: \_\_\_\_\_

Место проведения: \_\_\_\_\_ Номер работы: \_\_\_\_\_

Фамилия участника: \_\_\_\_\_ Имя: \_\_\_\_\_

Отчество: \_\_\_\_\_ Дата рождения: \_\_\_\_\_

Телефон: \_\_\_\_\_ E-mail: \_\_\_\_\_

Город: \_\_\_\_\_ Школа: \_\_\_\_\_

Класс, в котором учится участник: \_\_\_\_\_

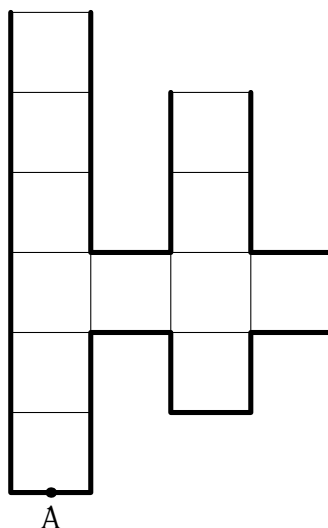
Класс, за который выступает участник: **8**

Вариант: **3**

**Задача 1.** На школьных соревнованиях по конькобежному спорту главными претендентами на победу были Владислав и Станислав. На протяжении всей дистанции Владислав удерживал скорость 24 км/ч. Станислав же в течение трех минут двигался со скоростью 20 км/ч, а все остальное время — со скоростью 24 км/ч, как и Владислав. На сколько секунд Владислав обогнал Станислава?

Ответ: Владислав обогнал Станислава на  с.

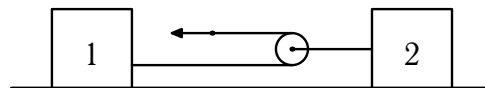
**Задача 2.** На рисунке изображен сосуд сложной формы (одна клетка соответствует кубику с длиной ребра 1 дм). В левое колено сосуда начинают заливать воду со скоростью 1 литр в минуту. Определите, какой будет высота столба воды над точкой А через 2 минуты, через 3 минуты, через 7 минут, через 9 минут, через 11 минут и через 12 минут.



Ответ: Высота столба воды над точкой А составит через 2 минуты  дм, через 3 минуты —  дм, через 7 минут —  дм, через

9 минут —  дм, через 11 минут —  дм и через 12 минут —  дм.

**Задача 3.** Алиса и Василиса проводили опыты с ящиками и веревками. Оказалось, что первый ящик начинает двигаться по горизонтальному столу при приложении к нему горизонтальной силы 4 Н, второй — при приложении горизонтальной силы 10 Н, третий — при приложении горизонтальной силы 6 Н. Из ящиков 1 и 2 и веревок Алиса собрала изображенную на рисунке экспериментальную установку и измерила минимальную силу, которую надо приложить к концу веревки, чтобы расстояние между ящиками начало уменьшаться.



Василиса провела аналогичные измерения, заменив в установке Алисы ящик 1 на ящик 3. Какие результаты получили Алиса и Василиса?

*Ответ:* Минимальная сила в опыте Алисы составляет  Н, в опыте Василисы —  Н.

**Задача 4.** К концам легкого стержня длиной 30 см прикреплены два шарика одинакового объема. Плотность первого шарика составляет  $2,7 \text{ г/см}^3$ . Чтобы стержень находился в равновесии в воздухе, его надо повесить на нити на расстоянии 12 см от первого шарика. Чтобы этот же стержень находился в равновесии в жидкости, его надо повесить на нити на расстоянии 10 см от первого шарика. Определите плотность второго шарика и плотность жидкости.

*Ответ:* Плотность второго шарика составляет   $\text{г/см}^3$ . Плотность жидкости равна   $\text{г/см}^3$ .

Фамилия, имя, отчество участника: \_\_\_\_\_

Вариант 3 за 8-й класс Номер работы: \_\_\_\_\_

Место проведения: \_\_\_\_\_ Номер работы: \_\_\_\_\_

Фамилия участника: \_\_\_\_\_ Имя: \_\_\_\_\_

Отчество: \_\_\_\_\_ Дата рождения: \_\_\_\_\_

Телефон: \_\_\_\_\_ E-mail: \_\_\_\_\_

Город: \_\_\_\_\_ Школа: \_\_\_\_\_

Класс, в котором учится участник: \_\_\_\_\_

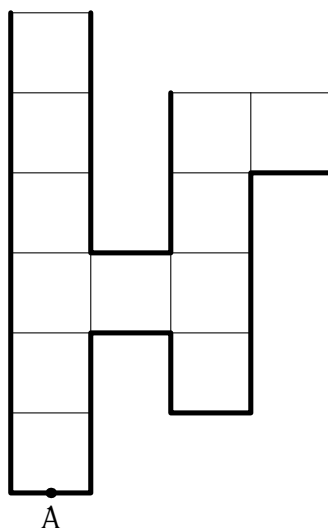
Класс, за который выступает участник: **8**

Вариант: **4**

**Задача 1.** На школьных соревнованиях по велоспорту главными претендентами на победу были Петя и Вася. На протяжении всей дистанции Петя удерживал скорость 36 км/ч. Вася же в течение четырех минут двигался со скоростью 30 км/ч, а все остальное время — со скоростью 36 км/ч, как и Петя. На сколько секунд Петя обогнал Васю?

Ответ: Петя обогнал Васю на  с.

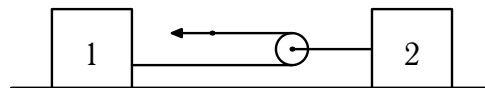
**Задача 2.** На рисунке изображен сосуд сложной формы (одна клетка соответствует кубику с длиной ребра 1 дм). В левое колено сосуда начинают заливать воду со скоростью 1 литр в минуту. Определите, какой будет высота столба воды над точкой А через 2 минуты, через 3 минуты, через 6 минут, через 8 минут, через 11 минут и через 12 минут.



Ответ: Высота столба воды над точкой А составит через 2 минуты  дм, через 3 минуты —  дм, через 6 минут —  дм, через

8 минут —  дм, через 11 минут —  дм и через 12 минут —  дм.

**Задача 3.** Ирина и Карина проводили опыты с ящиками и веревками. Оказалось, что первый ящик начинает двигаться по горизонтальному столу при приложении к нему горизонтальной силы 5 Н, второй — при приложении горизонтальной силы 12 Н, третий — при приложении горизонтальной силы 7 Н. Из ящиков 1 и 2 и веревок Ирина собрала изображенную на рисунке экспериментальную установку и измерила минимальную силу, которую надо приложить к концу веревки, чтобы расстояние между ящиками начало уменьшаться.



Карина провела аналогичные измерения, заменив в установке Ирины ящик 1 на ящик 3. Какие результаты получили Ирина и Карина?

*Ответ:* Минимальная сила в опыте Ирины составляет  Н, в опыте Карины —  Н.

**Задача 4.** К концам легкого стержня длиной 30 см прикреплены два шарика одинакового объема. Плотность первого шарика составляет  $2,4 \text{ г/см}^3$ . Чтобы стержень находился в равновесии в воздухе, его надо повесить на нити на расстоянии 12 см от первого шарика. Чтобы этот же стержень находился в равновесии в жидкости, его надо повесить на нити на расстоянии 10 см от первого шарика. Определите плотность второго шарика и плотность жидкости.

*Ответ:* Плотность второго шарика составляет   $\text{г/см}^3$ . Плотность жидкости равна   $\text{г/см}^3$ .

Фамилия, имя, отчество участника: \_\_\_\_\_

Вариант 4 за 8-й класс Номер работы: \_\_\_\_\_



Место проведения: \_\_\_\_\_ Номер работы: \_\_\_\_\_

Фамилия участника: \_\_\_\_\_ Имя: \_\_\_\_\_

Отчество: \_\_\_\_\_ Дата рождения: \_\_\_\_\_

Телефон: \_\_\_\_\_ E-mail: \_\_\_\_\_

Город: \_\_\_\_\_ Школа: \_\_\_\_\_

Класс, в котором учится участник: \_\_\_\_\_

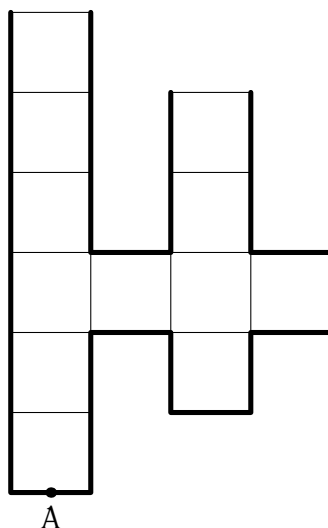
Класс, за который выступает участник: **8**

Вариант: **5**

**Задача 1.** На школьных соревнованиях по конькобежному спорту главными претендентами на победу были Владислав и Станислав. На протяжении всей дистанции Владислав удерживал скорость 24 км/ч. Станислав же в течение одной минуты двигался со скоростью 20 км/ч, а все остальное время — со скоростью 24 км/ч, как и Владислав. На сколько секунд Владислав обогнал Станислава?

Ответ: Владислав обогнал Станислава на  с.

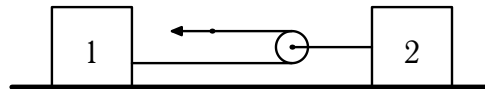
**Задача 2.** На рисунке изображен сосуд сложной формы (одна клетка соответствует кубику с длиной ребра 1 дм). В левое колено сосуда начинают заливать воду со скоростью 1 литр в минуту. Определите, какой будет высота столба воды над точкой А через 2 минуты, через 3 минуты, через 5 минут, через 8 минут, через 10 минут и через 13 минут.



Ответ: Высота столба воды над точкой А составит через 2 минуты  дм, через 3 минуты —  дм, через 5 минут —  дм, через

8 минут —  дм, через 10 минут —  дм и через 13 минут —  дм.

**Задача 3.** Алиса и Василиса проводили опыты с ящиками и веревками. Оказалось, что первый ящик начинает двигаться по горизонтальному столу при приложении к нему горизонтальной силы 5 Н, второй — при приложении горизонтальной силы 11 Н, третий — при приложении горизонтальной силы 6 Н. Из ящиков 1 и 2 и веревок Алиса собрала изображенную на рисунке экспериментальную установку и измерила минимальную силу, которую надо приложить к концу веревки, чтобы расстояние между ящиками начало уменьшаться.



Василиса провела аналогичные измерения, заменив в установке Алисы ящик 1 на ящик 3. Какие результаты получили Алиса и Василиса?

*Ответ:* Минимальная сила в опыте Алисы составляет  Н, в опыте Василисы —  Н.

**Задача 4.** К концам легкого стержня длиной 30 см прикреплены два шарика одинакового объема. Плотность первого шарика составляет  $2,85 \text{ г/см}^3$ . Чтобы стержень находился в равновесии в воздухе, его надо повесить на нити на расстоянии 12 см от первого шарика. Чтобы этот же стержень находился в равновесии в жидкости, его надо повесить на нити на расстоянии 10 см от первого шарика. Определите плотность второго шарика и плотность жидкости.

*Ответ:* Плотность второго шарика составляет   $\text{г/см}^3$ . Плотность жидкости равна   $\text{г/см}^3$ .

Фамилия, имя, отчество участника: \_\_\_\_\_

Вариант 5 за 8-й класс Номер работы: \_\_\_\_\_

Место проведения: \_\_\_\_\_ Номер работы: \_\_\_\_\_

Фамилия участника: \_\_\_\_\_ Имя: \_\_\_\_\_

Отчество: \_\_\_\_\_ Дата рождения: \_\_\_\_\_

Телефон: \_\_\_\_\_ E-mail: \_\_\_\_\_

Город: \_\_\_\_\_ Школа: \_\_\_\_\_

Класс, в котором учится участник: \_\_\_\_\_

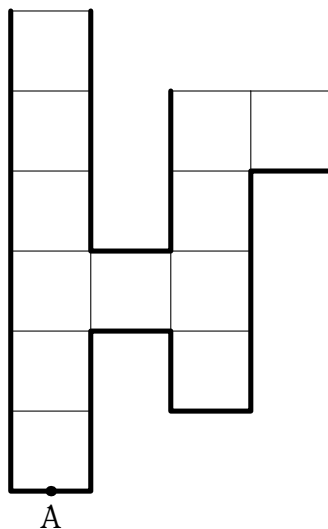
Класс, за который выступает участник: **8**

Вариант: **6**

**Задача 1.** На школьных соревнованиях по велоспорту главными претендентами на победу были Петя и Вася. На протяжении всей дистанции Петя удерживал скорость 36 км/ч. Вася же в течение двух минут двигался со скоростью 30 км/ч, а все остальное время — со скоростью 36 км/ч, как и Петя. На сколько секунд Петя обогнал Васю?

Ответ: Петя обогнал Васю на  с.

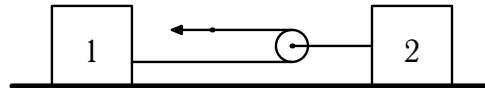
**Задача 2.** На рисунке изображен сосуд сложной формы (одна клетка соответствует кубу с длиной ребра 1 дм). В левое колено сосуда начинают заливать воду со скоростью 1 литр в минуту. Определите, какой будет высота столба воды над точкой А через 2 минуты, через 3 минуты, через 6 минут, через 7 минут, через 11 минут и через 13 минут.



Ответ: Высота столба воды над точкой А составит через 2 минуты  дм, через 3 минуты —  дм, через 6 минут —  дм, через 7 минут —  дм, через 11 минут —  дм и через 13 минут —

дм.

**Задача 3.** Ирина и Карина проводили опыты с ящиками и веревками. Оказалось, что первый ящик начинает двигаться по горизонтальному столу при приложении к нему горизонтальной силы 6 Н, второй — при приложении горизонтальной силы 13 Н, третий — при приложении горизонтальной силы 7 Н. Из ящиков 1 и 2 и веревок Ирина собрала изображенную на рисунке экспериментальную установку и измерила минимальную силу, которую надо приложить к концу веревки, чтобы расстояние между ящиками начало уменьшаться.



Карина провела аналогичные измерения, заменив в установке Ирины ящик 1 на ящик 3. Какие результаты получили Ирина и Карина?

*Ответ:* Минимальная сила в опыте Ирины составляет  Н, в опыте Карины —  Н.

**Задача 4.** К концам легкого стержня длиной 30 см прикреплены два шарика одинакового объема. Плотность первого шарика составляет  $2,55 \text{ г/см}^3$ . Чтобы стержень находился в равновесии в воздухе, его надо подвесить на нити на расстоянии 12 см от первого шарика. Чтобы этот же стержень находился в равновесии в жидкости, его надо подвесить на нити на расстоянии 10 см от первого шарика. Определите плотность второго шарика и плотность жидкости.

*Ответ:* Плотность второго шарика составляет   $\text{г/см}^3$ . Плотность жидкости равна   $\text{г/см}^3$ .

Фамилия, имя, отчество участника: \_\_\_\_\_

Вариант 6 за 8-й класс Номер работы: \_\_\_\_\_